

Auf dem Weg zur Schule kauft sich Mia jeden Morgen ein Käsebrötchen.
In diesem Sommermonat hat der Bäcker ein Sonderangebot:
Jedes 6. Brötchen ist gratis.
Der erste Tag des Monats ist ein Donnerstag.


-  Wie viele Brötchen muss Mia in diesem Monat zahlen?
-  Erkläre, wie du vorgegangen bist!

Klasse 3/4



Arithmetik



veröffentlicht unter cc-by-sa 4.0



Auf dem Weg zur Schule kauft sich Mia jeden Morgen ein Käsebrötchen.
In diesem Sommermonat hat der Bäcker ein Sonderangebot:
Jedes 6. Brötchen ist gratis.
Der erste Tag des Monats ist ein Donnerstag.


-  Wie viele Brötchen muss Mia in diesem Monat zahlen?
-  Erkläre, wie du vorgegangen bist!

Klasse 3/4



Arithmetik



veröffentlicht unter cc-by-sa 4.0



Auf dem Weg zur Schule kauft sich Mia jeden Morgen ein Käsebrötchen.
In diesem Sommermonat hat der Bäcker ein Sonderangebot:
Jedes 6. Brötchen ist gratis.
Der erste Tag des Monats ist ein Donnerstag.

-  Wie viele Brötchen muss Mia in diesem Monat zahlen?
-  Erkläre, wie du vorgegangen bist!

Klasse 3/4

Arithmetik



veröffentlicht unter cc-by-sa 4.0

